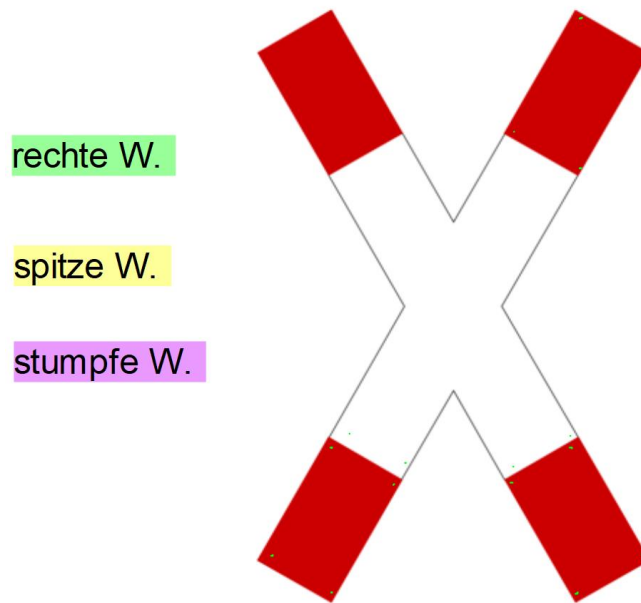


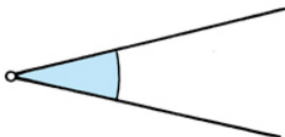
Winkelarten

1. Kennzeichne im Andreaskreuz:

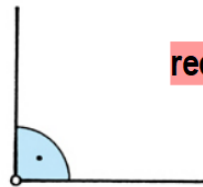


Mache im Eintragsheft folgenden Eintrag:

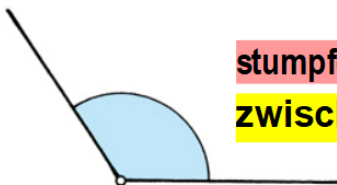
Verschiedene Winkelarten



spitzer Winkel
zwischen 0° und 90°



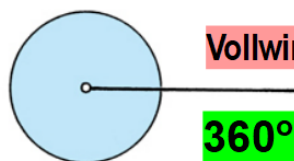
rechter Winkel
 90°



stumpfer Winkel
zwischen 90° und 180°



gestreckter Winkel
 180°



Vollwinkel
 360°

Winkel werden mit griechischen Buchstaben bezeichnet:

α β γ δ ϵ

2.

Wie viele Winkel entdeckst du?




spitzer Winkel: _____
rechter Winkel: _____
stumpfer Winkel: _____



spitzer Winkel: _____
rechter Winkel: _____
stumpfer Winkel: _____



spitzer Winkel: _____
rechter Winkel: _____
stumpfer Winkel: _____



spitzer Winkel: _____
rechter Winkel: _____
stumpfer Winkel: _____